

Азия – обобщение

▲ 1. Без да поглеждате към картата, отговорете на въпросите.

● 1. Кое море е разположено между Японско и Източнокитайско море?

- а) Жълто
- б) Охотско
- в) Южнокитайско
- г) Берингово

● 2. Коя от страните **НЯМА** излаз на Тихия океан: Виетнам или Монголия?

● 3. Кой залив мие бреговете на Южна Азия: Бискайски или Бенгалски?

● 4. Къде е разположен най-високият връх на Хималаите: между Непал и Китай или между Индия и Китай?

● 5. Къде е разположена Тибетската планинска земя: в Китай или в Монголия?

● 6. Къде е разположена Месопотамската низина: в долината на реките Тигър и Ефрат или на реките Яндзъ и Хуанхъ?

● 7. Коя пустиня е разположена южно от планината Тяншан?

● 8. На чие име е наречен протокът, който отделя Азия от Северна Америка: на С. Дежньов или на В. Беринг?

▲ 2. Групирайте географските обекти в три групи и дайте наименование на всяка група.

1. Гоби, 2. Арабски, 3. Калимантан, 4. Шри Ланка, 5. Такламакан, 6. Камчатка, 7. Руб ал Хали, 8. Суматра, 9. Индокитай

▲ 3. Запишете имената на три реки от Азия, които се вливат в Индийския океан. Запишете за всяка от тях къде и как се влива и какъв е периодът ѝ на пълноводие.

■ 4. Попълнете таблицата. Използвайте картата в атласа.

Пристанище	Море/океан	Страна
1.		
2.		
3.		
4.		
5.		

■ 5. Запишете имената на страни, разположени на:

полуостров Индокитай

полуостров Индостан

полуостров Арабия

● 6. Кое от твърденията **НЕ** се отнася за населението на Азия?

а) Източните и южните части са гъсто населени.



б) Има най-многобройно население сред континентите.

в) В югозападната част преобладава население от монголоидната раса.

г) Населението е разпределено неравномерно.


▲ 7. Открийте хоризонтално и вертикално и очертайте в буквения квадрат 11 държави от Азия.

Т У Р Ц И Я С
 К А Т А Р П И
 Н Ъ Е М Е Н Р
 Е У Р А Н И И
 П Р О М А Н Я
 А А Б У Т А Н
 Л К К И Т А Ъ
 Я П О Н И Я Р



▲ 8. Запишете за всяко от изображенията кой туристически обект от Азия показва. Изберете си един от тях и разкажете за него.

.....



● 9. Решете кръстословицата за географски рекорди на Азия.

1. Най-дълбокото езеро в света. 2. Едно от наименованията на най-големия остров от Малайския архипелаг. 3. Пустиня в Азия, където се среща лъв. 4. Страната с най-много острови. 5. Най-обширният залив на планетата. 6. Най-дългата сибирска река. 7. Страната с най-многобройно население. 8. Най-големият полуостров на света. 9. Най-дълбоката депресия на Земята. 10. Едно от названията на най-високия връх на планетата.

