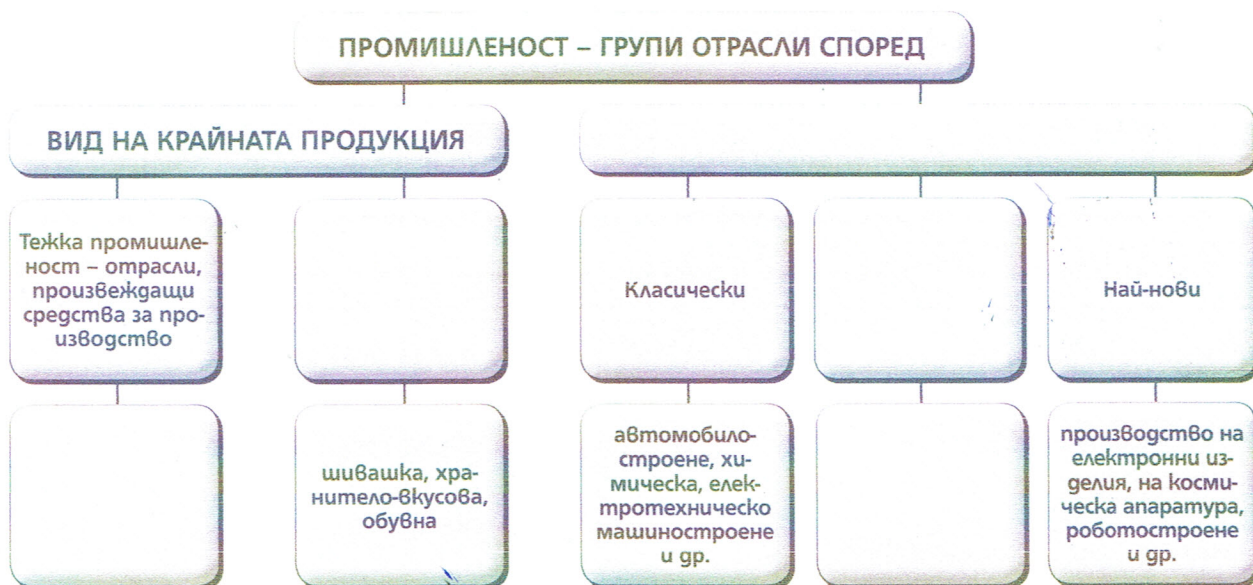




ВТОРИЧЕН СЕКТОР

1.

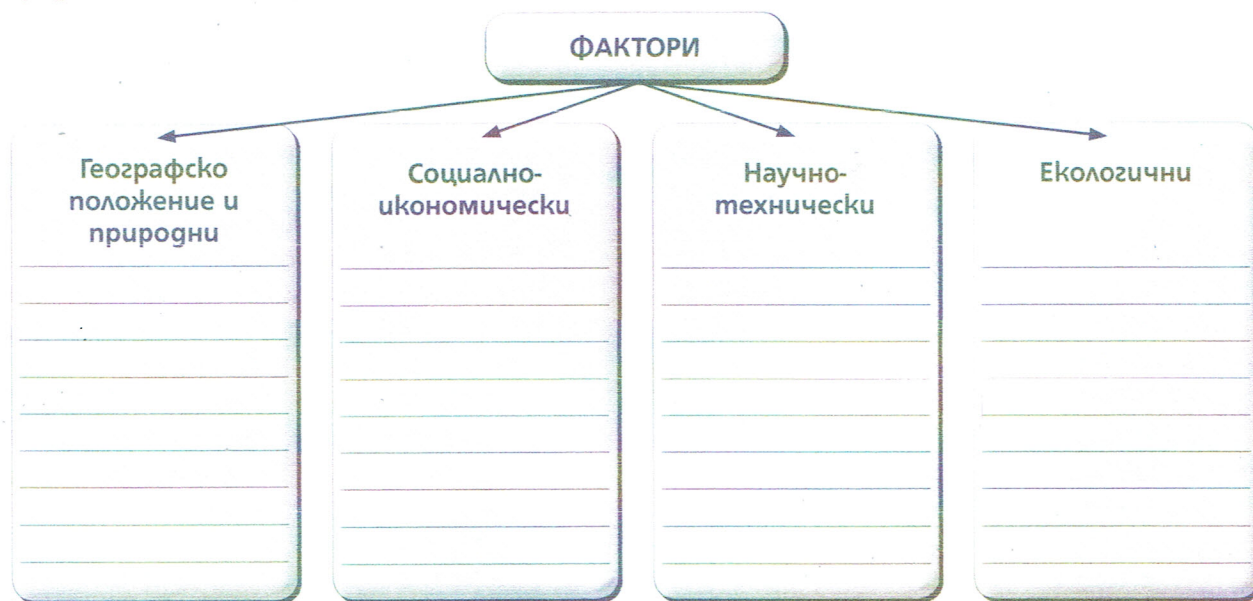
Попълнете празните места в схемата за промишлеността.



2.

Групирайте в схемата факторите за развитие и териториално разположение на отраслите във вторичния сектор.

добив на руди, близост до пристанища, човешки ресурси, пазари, брой на населението, висококвалифицирана работна сила, нискоквалифицирана работна сила, научни постижения, технологични паркове, автоматизация, роботизация, замърсяване на околната среда, екологични норми



За всяка група фактори обяснете в едно изречение какво е влиянието им.

- _____
- _____
- _____
- _____

3. Попълнете празните места в текста и предложете заглавие.

_____ сектор се характеризира с определени особености. Отраслите в сектора използват за производството си голямо количество енергия (_____) и суровини (_____). За изграждането и развитието на голяма част от промишлените предприятия са необходими значителни _____ и мощна техническа инфраструктура. Повечето отрасли и подотрасли изискват многобройна (_____) и квалифицирана работна ръка. Важно значение за развитието на вторичния сектор има внедряването на новостите в _____. Някои отрасли създават _____ проблеми.

4. Напишете наименованията на отраслите, които формират отрасловата структура на промишлеността, и запишете основните особености на всеки отрасъл.

Е _____

Особености – _____

М _____

Особености – _____

М _____

Особености – _____

Х _____ промишленост

Особености – _____

С _____

Особености – _____

Л _____ промишленост

Особености – _____

Х _____ промишленост

Особености – _____

5. Проследете публикациите в няколко всекидневника или в официални сайтове на електронни медии за седмица. Подберете материали от тях, които са свързани с проблеми и съвременни тенденции в развитието на отраслите от вторичния сектор. Групирайте тематично информацията и я представете чрез колажи, презентации или по избран от вас начин. Запишете началото:



РАСТЕНИЕВЪДСТВО И ЖИВОТНОВЪДСТВО

1. Подредете последователно стъпките за характеризиране на стопански отрасъл, като ги номерирате от 1 до 4.

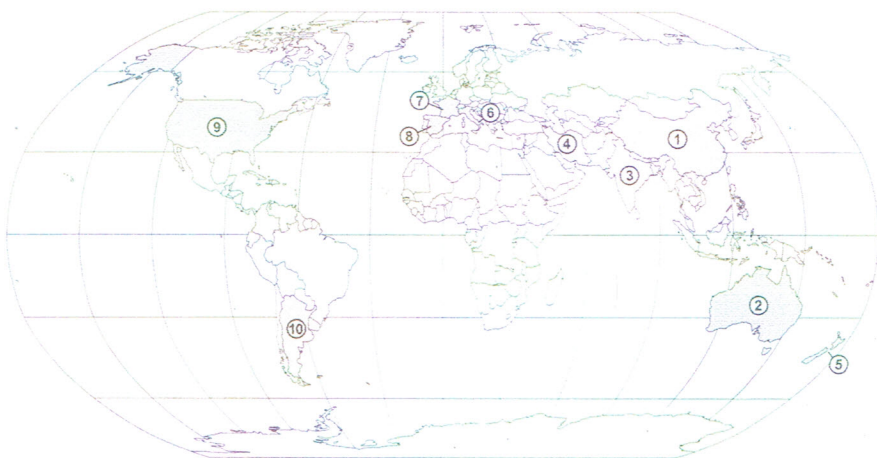
	Очертаване на проблемите и тенденциите в развитието му
	Разкриване на същността, значението и особеностите на отрасъла
	Разкриване на отрасловата и териториалната му структура
	Описание на условията и факторите за развитие на отрасъла

2. Попълнете празните места в текста.

_____ обединява отглеждането на земеделски култури, които осигуряват _____ за населението, _____ за животновъдството и суровини за _____ и др. В зависимост от предназначението си техническите култури се разделят на влакнодайни – _____, _____; маслодайни – _____, фъстъци, маслини; захародайни – _____, _____; тонизиращи – _____, _____, _____.

Животновъдството обединява дейности и отрасли, свързани с отглеждането на различни видове и породи домашни животни, с цел осигуряване на _____ за човека и _____ за промишлеността и включва: _____, _____, _____, птицевъдство и бубарство.

3. С помощта на картата срещу номера от 1 до 5 включително напишете наименованията на най-големите центрове на овцевъдство в света, а от 6 до 10 включително – на най-големите лозарски центрове.



1	6
2	7
3	8
4	9
5	10

4. Кои държави са водещи по производство на:

- маслини – _____
- цитрусови плодове – _____
- какао – _____
- кафе – _____
- чай – _____

5. Напишете поне две разлики между животновъдството и растениевъдството.

6. Напишете липсващите отговори.

Животновъдството осигурява за промишлеността следните суровини:

- А) мазнини
- Б) _____
- В) кожи
- Г) _____
- Д) _____
- Е) _____

7. Проследете връзката към интерактивната карта на Международния център за тропическо земеделие. Тя илюстрира отглеждането на основни земеделски култури по континенти и региони. Съставете списък на земеделските култури по континенти и региони.

8. Кои са основните проблеми и тенденции в развитието на земеделието в света?

- Проблеми – _____
- _____
- Тенденции – _____
- _____